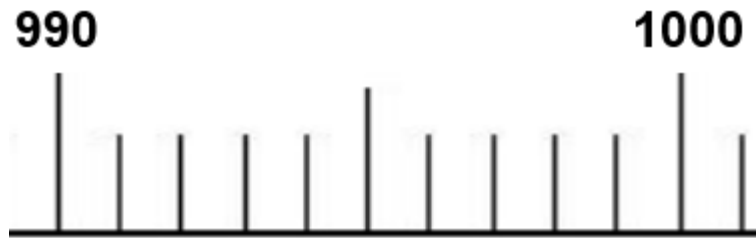


## Übung :

Ergänze mit der fehlenden Zahl. Benutze das Zahlenband:



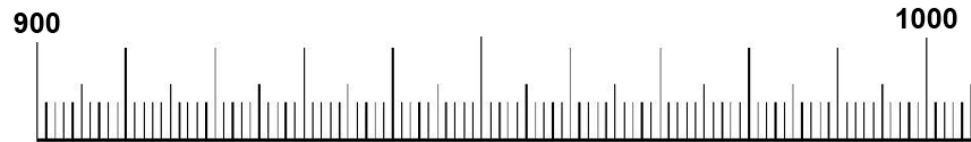
$$990 + \dots = 1000 \quad \text{et} \quad 999 + \dots = 1000$$

## Übung :

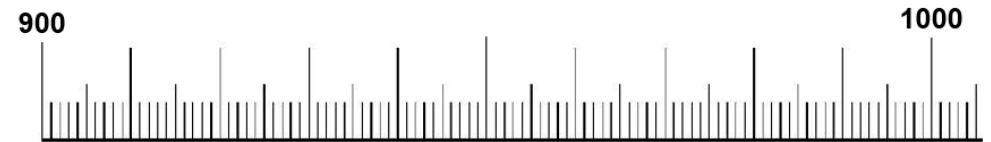
Ergänze mit der fehlenden Zahl. Benutze das Zahlenband:



$$990 + \dots = 1000 \quad \text{et} \quad 999 + \dots = 1000$$



$$900 + \dots = 1000 \quad \text{et} \quad 950 + \dots = 1000$$



$$900 + \dots = 1000 \quad \text{et} \quad 950 + \dots = 1000$$